

MŰVÉSZETTÖRTÉNETI FELADATLAPOK



MMA
MAGYAR MŰVÉSZETI
AKADÉMIA

KORTÖRTÉNETI SORREND

1. Művészettörténeti jelentőségű épületeket látsz a képeken. Írd a táblázat megfelelő rubrikájába, hogy mi a kortörténeti stílusuk(A), majd tedd őket időrendi sorrendbe számozással(B)! A legrégebbivel kezd!


Miután beazonosítottad az épületet név szerint(C), jelöld be a térképen, hogy mely országokba kellene elutaznod, ha élőben szeretnéd megtekinteni őket és írd be az országok neveit a táblázatba! (D)

Segítő kifejezések:

A: gótika - szecesszió – ókor, görög – romanika - reneszánsz

C: Jáki templom – Sagrada Familia– Reimsi katedrális – Parthenon - Cattedrale di Santa Maria del Fiore


D: Magyarország – Olaszország – Spanyolország – Franciaország – Görögország



A	KORTÖRTÉNETI STÍLUS				
B	KORTÖRTÉNETI SORREND				
C	AZ ÉPÜLET NEVE				
D	MELY ORSZÁGBAN TALÁLHATÓ AZ ÉPÜLET?				


2. Tedd időrendi sorrendbe az alábbi építészeti remekműveket! A legkorábbival kezd a sort!

1				
2				
3				



KORTÖRTÉNETI SORREND

1.
A D feladat úgy is variálható, hogy nem az országot, hanem a várost jelöltetjük meg a diákokkal. Ha több szintet használunk, akkor ugyanerre a térképre a 2-es feladat épületeit is bejelölhetjük!



A	KORTÖRTÉNETI MEGNEVEZÉS	ókori Görögország	reneszánsz	szecesszió	gótika	romanika
B	KORTÖRTÉNETI SORREND	1	4	5	3	2
C	AZ ÉPÜLET NEVE	Parthenon	Cattedrale di Santa Maria del Fiore	Sagrada Familia	Reimsi katedrális	Jáki templom
D	MELY ORSZÁGBAN TALÁLHATÓ AZ ÉPÜLET?	Görögország (Athén)	Olaszország (Firenze)	Spanyolország (Barcelona)	Franciaország (Reims)	Magyarország (Ják)

2. Tedd időrendi sorrendbe az alábbi építészeti remekműveket! A legkorábbival kezd a sort!

1	E: ókori Mezopotámia, Istar kapu, jelenleg Németország/Berlin	A: Bizánc, Hagia Sophia, Törökország/ Isztambul	C: gótika, Kölni dóm, Németország/Köln	D: reneszánsz, Château de Chenonceau, Franciaország/ Loire menti kastélyok	B: barokk Szent Jakab katedrális, Spanyolország/ Santiago de Compostela
2	D: óskor, Kőasztal Írország/Kilclooney	E: ókori Római birodalom, LesFerrereres-Pont del Diabla vízvezeték Spanyolország, Tarragona	B: reneszánsz, Pitti-palota Olaszország/ Firenze	C: barokk, Drezdai Zwinger kastély Németország/Drezda	A: XIX. század, Eiffel torony, Franciaország/Párizs
3	C: ókori Mezopotámia, Úr város zikkuratja Dél-Irán/ Nesiria	B: romanika, Pisai templomegyüttes Olaszország/ Pisa	E: barokk, Szent Péter székesegyház (homlokzata és előtere: Bernini) Olaszország/ Róma	A: klasszicizmus, Arc de Triomphe/Napóleon diadalíve, 1836, Franciaország/ Párizs	D: Bauhaus, Henry van de Velde: Iskolaépület, 1906 Németország/Dessau

