

# MŰVÉSZETTÖRTÉNETI FELADATLAPOK



**MMA**  
MAGYAR MŰVÉSZETI  
AKADÉMIA

1. Melyik két épületnek azonos a kortörténeti stílusa? Karikázd be a betűjelét! (2+2)



2. Felismered az 1-es feladat épületeit? Melyek azok, amelyek nem Magyarországon találhatóak? ,X'-el jelöld a képeket! (4)


3. Az itt látható épületek közül hármat „lakhatás” céljából építettek. Mi a funkciója a kimaradt épületnek? (1) \_\_\_\_\_



4. Az alábbi fotók közül három szakrális épületről készült. Karikázd be a kapuktojtást! (1)

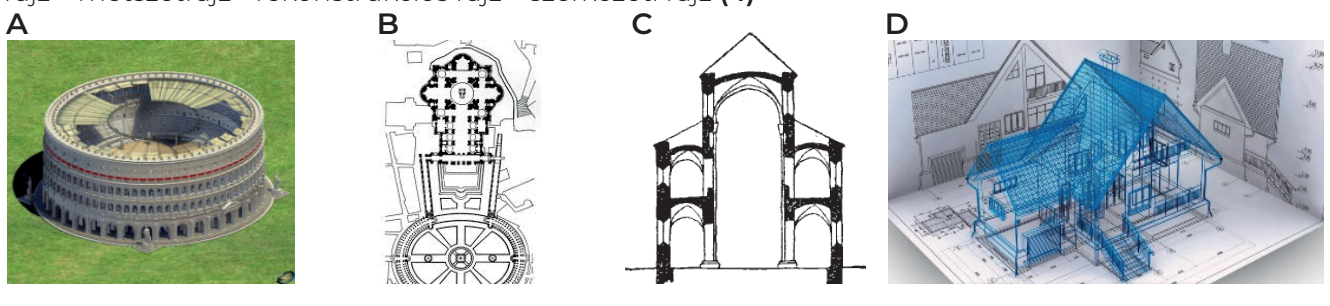


5. Építőanyag szempontjából melyik épület nem illik a sorba? (1) Zömében mely anyagot használták ennek kivitelezésénél? (1) \_\_\_\_\_



6. Párosítsd a szakkifejezést a megfelelő képhez!

alprajz – metszetrajz - rekonstrukciós rajz – szerkezeti rajz (4)



**ÉPÍTÉSZETI EZ+AZ**

1. Melyik két épületnek azonos a kortörténeti stílusa? Karikázd be a betűjelét! (2+2)

1

<b>(A)</b>	<b>B</b>	<b>C X</b>	<b>(D)</b>
			
klasszicizmus Esztergomi bazilika	neogótika Magyar Parlament	barokk Drezdai Zwinger, Németország	klasszicizmus Nemzeti Múzeum

2

<b>(A) X</b>	<b>(B) X</b>	<b>C X</b>	<b>D X</b>
			
barokk Schönbrunn, Ausztria	barokk Versaillesi-kastély, Franciaország	reneszánsz Pitti palota	romantika Neuschwansteini-kastély Németország

2. Felismered az 1-es feladat épületeit? Melyek azok, amelyek nem Magyarországon találhatóak? ,X'-el jelöld a képeket! (4) 1: C 2: A, B, C, D,

3. Az itt látható épületek közül hármat „lakhatás” céljából építettek. Mi a funkciója a kimaradt épületnek? (1) \_\_\_\_\_ D: szakrális tér, templom, egyházi épület \_\_\_\_\_

- |   |                            |                                |  |
|---|----------------------------|--------------------------------|--|
| <b>A</b><br>ókori római lakóház (domus) | <b>B</b><br>barokk kastély | <b>C</b><br>szecessziós palota | <b>(D)</b><br>szakrális tér, templom, egyházi épület |
|---|----------------------------|--------------------------------|--|

4. Az alábbi fotók közül három szakrális épületről készült. Karikázd be a kapuktoját! (1)


- |                                  |  |  |   |
|----------------------------------|--|--|---|
| <b>A</b><br>Mátyás templom, Buda | <b>B</b><br>Petra „Monostor”, Jordánia | <b>(C)</b><br>Egyesült királyság parlamentje, Westminster-palota, London | <b>D</b><br>Szent Lélek templom, Paks (Makovecz Imre) |
|----------------------------------|--|--|---|

5. Építőanyag szempontjából melyik épület nem illik a sorba? (1) Zömében mely anyagot használták ennek kivitelezésénél? (1) \_\_\_\_\_ B: acél \_\_\_\_\_

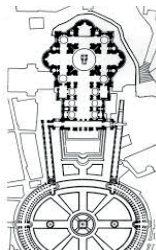
- |                                      |                                     |  |                                 |
|--------------------------------------|-------------------------------------|--|---------------------------------|
| <b>A</b><br>Raichle-palota, Szabadka | <b>(B)</b><br>Eiffel-torony, Párizs | <b>C</b><br>Reneszánsz lábas házak, Telč | <b>D</b><br>Istar-kapu, Babilon |
|--------------------------------------|-------------------------------------|--|---------------------------------|

6. Párosítsd a szakkifejezést a megfelelő képhez!


alaprész - metszetrész - rekonstrukciós rajz - szerkezeti rajz (4)



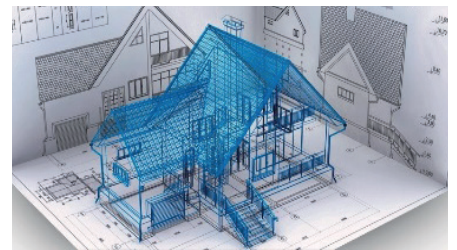
rekonstrukciós rajz



alaprész



metszetrész



szerkezeti rajz